




# LES ENIGMES 8 - 10 ANS

Calcul - Logique - Dessin

Les Editions  
ROSACE

# LES DEUX COPAINS

Enzo a le double de l'age de Gabriel.  
Si on additionne les âges de Gabriel et Enzo on trouve  
33 ans. Quel âge ont Enzo et Gabriel?



# LE SUDOKU

Sur chaque ligne et chaque colonne, tu dois trouver les chiffres 1 à 6.

1		3		4	
	6		2		3
	4	6	3		1
3		2	4	6	
2		1		5	
	5		1		2


# LAPINS ET POULES

Dans cette ferme, il n'y a que des poules et des lapins.

Théo compte au total 56 pattes et 18 têtes.

Combien y-a-t'il de lapins et de poules?

Tu peux dessiner ou calculer dans ce carré.



# LE CARRÉ MAGIQUE

Complète le carré magique. Si tu additionnes les nombres d'une même ligne ou d'une même colonne tu dois obtenir 34.

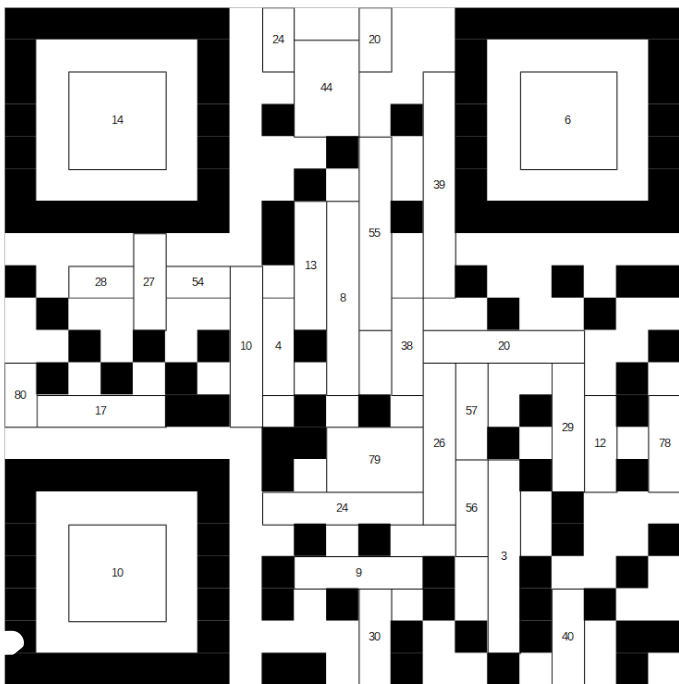
	<b>2</b>	<b>3</b>	
	<b>11</b>		<b>8</b>
<b>9</b>		<b>6</b>	<b>12</b>
<b>4</b>		<b>15</b>	<b>1</b>

# LE COLOR CODE

Pour commencer, fais ce calcul sans calculatrice et écris son résultat:

$$26 + 49 + 27 - 27 - 51 = \dots$$

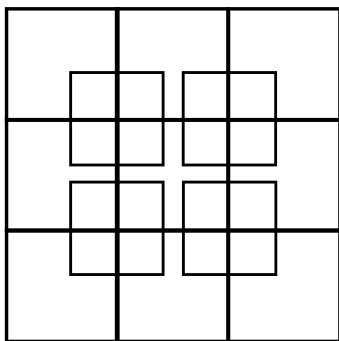
Pour vérifier ton résultat, colorie en noir toutes les cases contenant un nombre pair. Tu obtiendras un QR code qui pourra être "flashé" avec une tablette ou un téléphone portable.



**D'autres Color Code sont disponibles sur notre site internet  
[www.editions-rosace.fr](http://www.editions-rosace.fr)**

# LES CARRÉS

*Combien comptes-tu de carrés?*



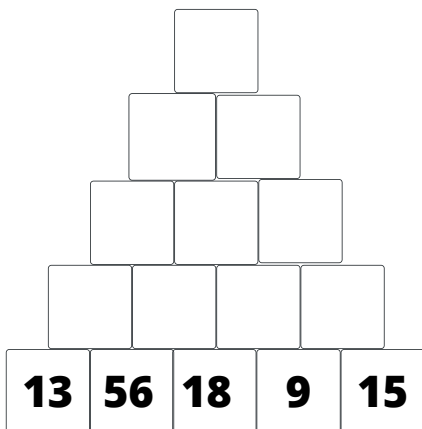
**Nombre de carrés:**

**Il y a ..... carrés.**

# LA PYRAMIDE

Dans cette pyramide, chaque case est la somme des deux nombres placés en dessous.


Complète la pyramide.






# LES LABYRINTHES

Trouve le chemin de ce labyrinthe.



# POINTS A RELIER

*Relie ces points en faisant seulement 4 traits et sans lever le crayon.*



# LES FRUITS

Quel est le nombre qui se cache derrière ces fruits?

$$\text{🍏} + \text{🍏} + \text{🍏} = 30$$

$$\text{🍏} + \text{🍌} + \text{🍌} = 18$$

$$\text{🍌} - \text{🥥} = 2$$

$$\text{🥥} + \text{🍏} + \text{🍌} = ?$$

$$\text{🍏} = \dots$$

$$\text{🥥} = \dots$$

$$\text{🍌} = \dots$$

# CHÂTEAU DE CARTES

Combien faut-il de cartes au total pour réaliser un château de cartes de 8 niveaux?

Tu peux dessiner dans le cadre en t'aidant du modèle



**Niveau 1: 2 cartes**



**Niveau 2: 7 cartes**

## SI VOUS VOULEZ NOUS SOUTENIR:

Avec un tip sur Tipeee, vous nous aidez dans la création de nos contenus



## LES RÉPONSES

Pour obtenir les réponses, il faut flasher le Qr Code ci-dessous.



les Editions  
ROSACE