






LES ENIGMES 5-7 ANS

Calcul - Logique - Dessin

Les Editions
ROSACE

LES 3 DÉs


Théo lance 3 dés et obtient un total de 8. Sur les dés il n'y a ni 2, ni 3. Dessine les trois dés



LE SUDOKU DES FORMES

Sur chaque ligne et chaque colonne, tu dois trouver un
coeur, une étoile et une lune.

Dessine-les dans les bonnes cases.



LAPINS ET POULES

Dans cette ferme, il n'y a que des poules et des lapins.
Théo compte au total 20 pattes et 6 têtes.
Combien y-a-t'il de lapins et de poules?
Tu peux dessiner ou calculer dans ce carré.

4 lapins = 16 pattes

2 poules = 4 pattes

6 têtes et 20 pattes



4



2

LE CARRÉ MAGIQUE

Complète le carré magique. Si tu additionnes les nombres d'une même ligne ou d'une même colonne tu dois obtenir 15.

2	7	6	15
9	5	1	15
4	3	8	15

15	15	15
----	----	----

QUI EST-CE?

Tu dois retrouver le personnage qui correspond à la description:

Je ne porte pas de lunettes.

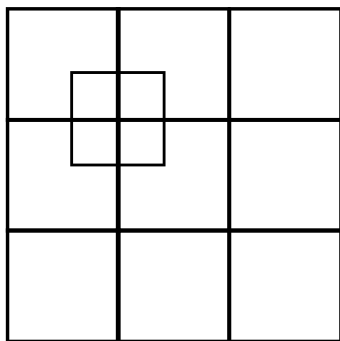
Je n'ai pas d'étoile sur mon tee-shirt.

Je suis un garçon et mon tee-shirt a trois rayures.



LES CARRÉS

Combien comptes-tu de carrés?



Nombre de carrés:

Il y a 19 carrés.

LA TABLE

Moussa a invité pour son anniversaire 5 enfants:

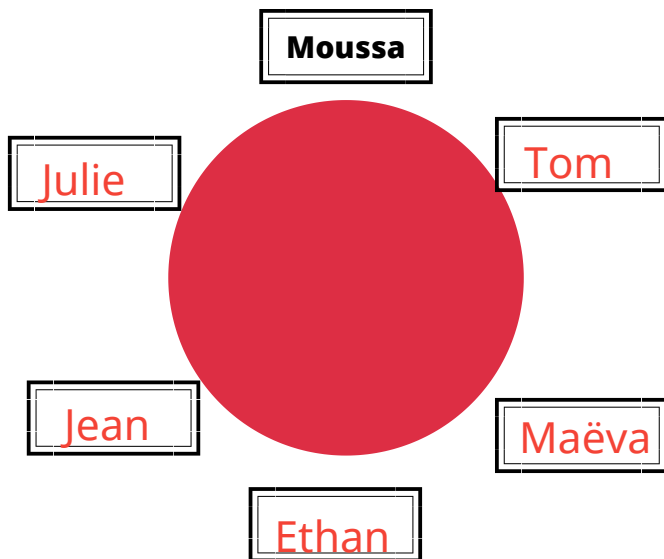
Julie, Jean, Tom, Maëva et **Ethan**.

Julie est entre Moussa et Jean.

Tom est à la gauche de Moussa.

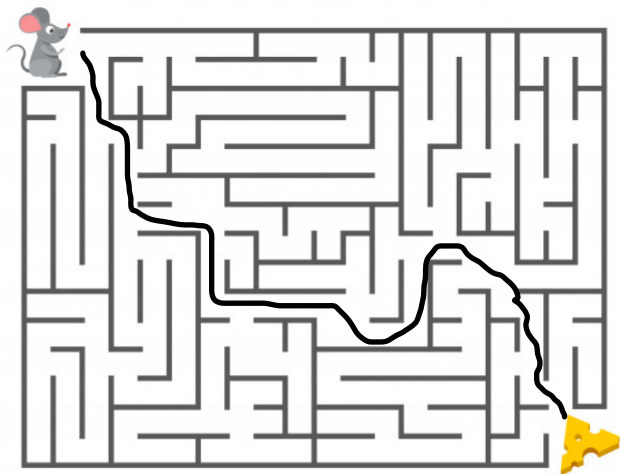
Maëva n'est pas en face de Moussa.

Ecris le nom de leur place sur cette table.



LES LABYRINTHES

Trouve les chemins de ces deux labyrinthes.



LES RÉPONSES

Pour obtenir les réponses, il faut flasher le Qr Code ci-dessous.



*Tu peux laisser un commentaire
pour nous dire si tu as tout réussi.*

les Editions
ROSACE