

Editions



Rosace

# Cahier de vacances



Français  
Maths  
Histoire  
Géographie  
Sciences  
Anglais

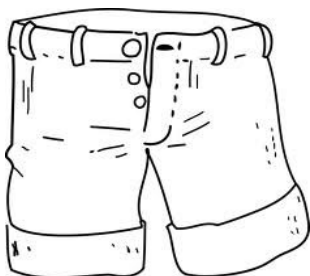



*Du CP au CE1*

# Le grand départ

Aujourd'hui, Sarah et Paolo préparent leur valise. Tous les deux vont passer une semaine avec leurs grands-parents dans un camping. Même s'ils quittent leur maison et leurs parents, ils ont hâte de découvrir le lieu de leurs vacances. Sarah et Paolo vérifient leur bagage: maillots de bain, shorts, tee-shirts, baskets, jeux...



1. Barre ce que Paolo et Sarah n'ont pas emmené en vacances:



2. Remets les lettres dans l'ordre et écris le noms des enfants :

P A O O L →	.....
H R S A A →	.....

3. Combien y a-t-il de billes ? :



A la piscine, un nageur se fait enguirlander parce qu'il a fait pipi dans l'eau.

- Mais enfin, proteste-t-il, vous exagérez, je ne suis pas le seul à faire ça!

- Si, monsieur, du haut du plongeur, vous êtes le seul!

# L'arrivée

Après trois heures de route, Sarah et Paolo arrivent enfin au camping. Papi et mamie sont déjà là et les attendent avec impatience. Pendant leur séjour, Sarah et Paolo dormiront dans une tente. Ils pourront aussi faire du vélo, aller à la piscine et enfin découvrir la plage toute proche.

1. Remets les mots dans l'ordre pour faire une phrase :

arrivent / camping. / au / Sarah / Paolo / et

---

---

---

---

dormiront / tente. / une / dans / Ils

---

---

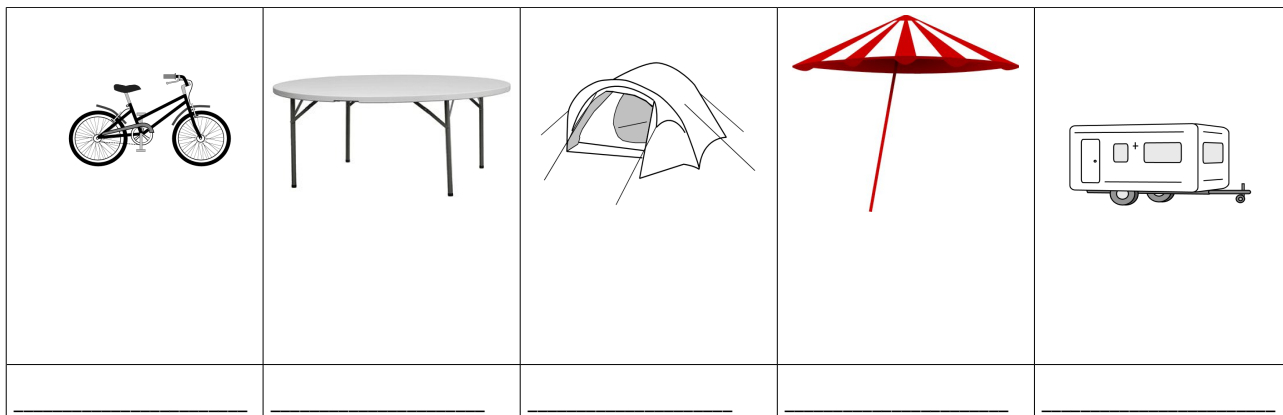
---

---

2. Complète avec « f » ou « ch »

Un ___eval	Une ___ille
Un ___at	Une ___icelle
Il fait ___roid.	Il fait ___aud.
___ut !	Une ___aise

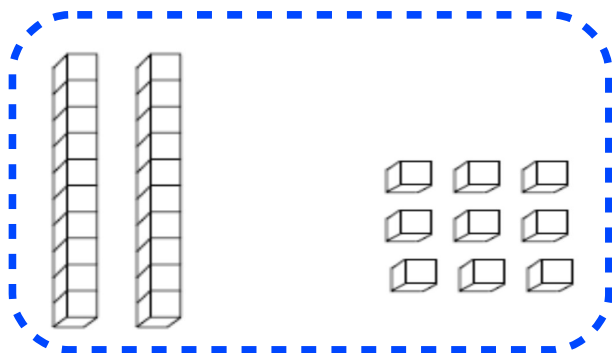
3. Utilise les syllabes pour écrire les mots : te - pa - ra - sol - ten - ra - vé - va - ble  
- ta - ca - ne - la



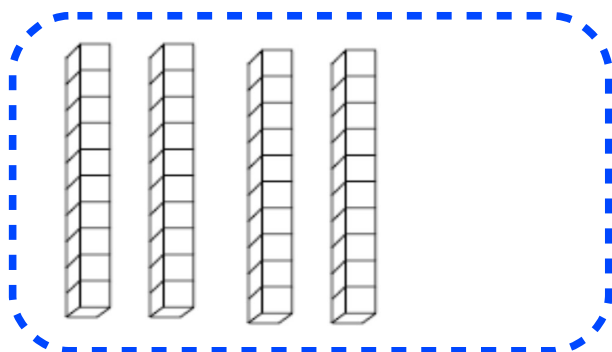
4. Calcule

$5 + 6 =$	$3 + 6 =$	$5 + 5 =$	$9 + 2 =$
$5 + 3 =$	$9 + 9 =$	$8 + 7 =$	$6 + 6 =$

5. Complete:



Il y a .....cubes.



Il y a .....cubes.

# PREMIÈRES baignades

Ce matin, les deux enfants se sont levés tôt pour découvrir la plage. Ils prennent avec eux tous les jeux qu'ils ont pu emmener: un seau, des pelles et un ballon. Arrivés près de l'eau, ils ont enfin le droit de jouer. Pendant que Paolo construit ses châteaux de sable, Sarah s'amuse et court autour de lui.

1. Complète le texte avec les mots: Sarah, châteaux, ballon, Paolo

Paolo construit des \_\_\_\_\_ de sable.

\_\_\_\_\_ court autour de Paolo.

Ils emmènent une pelle et un \_\_\_\_\_.

\_\_\_\_\_ va à la plage.

2. Classe les mots et range les dans le tableau : une tasse - casquette - basse - casser - espérer - absent

« b »

---

---

---

« bb »

---

---

---

3. Ecris ces nombres en lettres

7: \_\_\_\_\_

12: \_\_\_\_\_

16: \_\_\_\_\_

21: \_\_\_\_\_

4. Effectue les calculs suivants, attention aux retenues:

$$\begin{array}{r} 54 \\ + 16 \\ \hline \end{array}$$

$$\begin{array}{r} 23 \\ + 56 \\ \hline \end{array}$$

$$\begin{array}{r} 56 \\ + 39 \\ \hline \end{array}$$

$$\begin{array}{r} 38 \\ + 47 \\ \hline \end{array}$$

4. Dessine ce qui est écrit :

Il y a un chat gris sous la table et un vase vert avec une fleur rouge sur la table.

# QUEL cirque!

Ce soir, toute la famille assistera à un spectacle. Un cirque s'est installé près du camping. Sarah et Paolo vont passer la soirée avec les yeux grands ouverts pour admirer les jongleurs, les trapézistes et les clowns. En sortant du chapiteau pour rentrer au camping, Paolo s'écrie « Quel cirque ! »

1. Complète ce texte avec des mots du texte: jongleur, trapéziste, clown, chapiteau

Le ..... fait des pirouettes en hauteur.

Le ..... est là pour nous faire rire.

Le ..... s'amuse avec trois balles en même temps.

Tous les artistes évoluent sous le .....

2. Barre les intrus dans chaque phrase:

le ski - la boxe - le foot - le hockey - le bus - le handball - la course

bleu - rouge - petit - orange - vert - rose - blanc

un pantalon - une jupe - un short - un manteau - une montre - une chaussette

3. Résous ces problèmes :

a. Loïc a ramassé 8 coquillages le matin et 5 coquillages l'après-midi.

Combien a-t-il ramassé de coquillages en tout ?

.....



b. Julie avait 14 billes mais elle en a perdu 6.

Combien de billes lui reste-t-il ?

---

4. Réécris les jours de la semaine dans l'ordre :

1	5
2	6
3	7
4	

5. Complète avec le nom des insectes : bourdon, abeille, guêpe, frelon



# Le Marché

En arrivant au marché, les grands-parents ont conseillé de ne pas trop s'éloigner. Ce jeudi matin, il y avait beaucoup de monde et les deux enfants ne voulaient pas se perdre. En se promenant dans les allées, Paolo et Sarah ont pu admirer les fruits et les légumes sur les étals.

-C'est quoi ce légume? demande Paolo.

-Ca s'appelle une aubergine, répond le grand-père.

1. Complète avec le, la ou l' :

___ Terre	___ aile	___ hélicoptère
___ chien	___ tableau	___ chaussette
___ tirelire	___ violon	___ albatros

2. Écris une phrase qui décrit ces images :



---

---

---

3. Complète avec « ion » ou « oin »

Un p.....

Un cam.....

Un p.....t

Un c.....

Une soustract.....

C'est l.....

4. Trace un rectangle et un carré:



5. Complète ces suites de nombres :

10 - 20 - 30 - \_\_\_ - \_\_\_ - \_\_\_ - \_\_\_ - \_\_\_

2 - 4 - 6 - \_\_\_ - \_\_\_ - \_\_\_ - \_\_\_ - \_\_\_

5 - 10 - 15 - \_\_\_ - \_\_\_ - \_\_\_ - \_\_\_ - \_\_\_

# Le retour

C'est le dernier jour dans le camping pour Paolo et Sarah. Ils rangent dans leur valise tout ce qu'ils avaient emmené. Ils voudraient rester encore une semaine mais la rentrée approche et ils ont hâte de revoir leurs parents. Après avoir embrassé leurs grands-parents, ils montent dans leur voiture et rentrent chez eux.

1. Complète avec pa, pe ; pi:



Un .....rasol

Une lou.....

Un é.....

Une quêt.....

2. Écris les « s » ou les « x » qui manquent :

Il a des moustache... blanches.

Il y a des oiseau... dans cet arbre.

Mes veste... sont au pressing.

Je regarde ces cheveu... qui galopent.

3. Calcule :





$$\begin{array}{r} 53 \\ + 26 \\ \hline \end{array}$$

$$\begin{array}{r} 22 \\ + 44 \\ \hline \end{array}$$

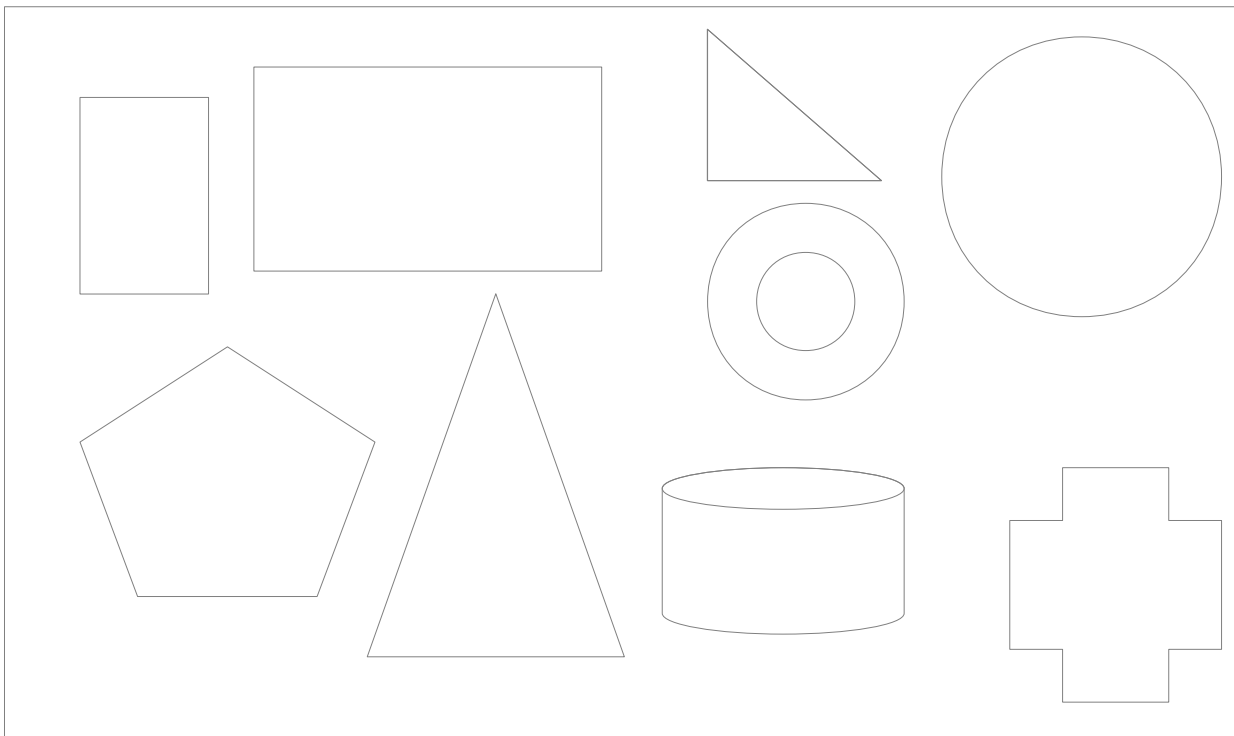
$$\begin{array}{r} 90 \\ + 9 \\ \hline \end{array}$$

$$\begin{array}{r} 26 \\ + 16 \\ \hline \end{array}$$

4. Colorie les pots de peinture selon la couleur :

			
Black	Orange	Green	Blue

5. Colorie seulement les triangles :



# Écriture

A

B

C

D

E

F

G

H

I

J

K

L

M

N

O

P

Q

R

S

T

U

V

W

X

Y

Z

***Les Editions Rosace vous remercient  
d'avoir utilisé notre cahier de vacances.***

***Nous vous invitons à participer à  
l'enquête satisfaction sur notre site:***

***[www.editions-rosace.fr](http://www.editions-rosace.fr)***

